

INSTITUCIÓN EDUCATIVA SURORIENTAL




Matemáticas



11 DE MARZO

**MUEVE DOS PALITOS PARA
OBTENER 2 CUADRADOS.**



DIEGO ALONSO CASTAÑO ALZATE
Por favor visiten la página de club súmate
<https://iesuroriental.wixsite.com/clubsumate>

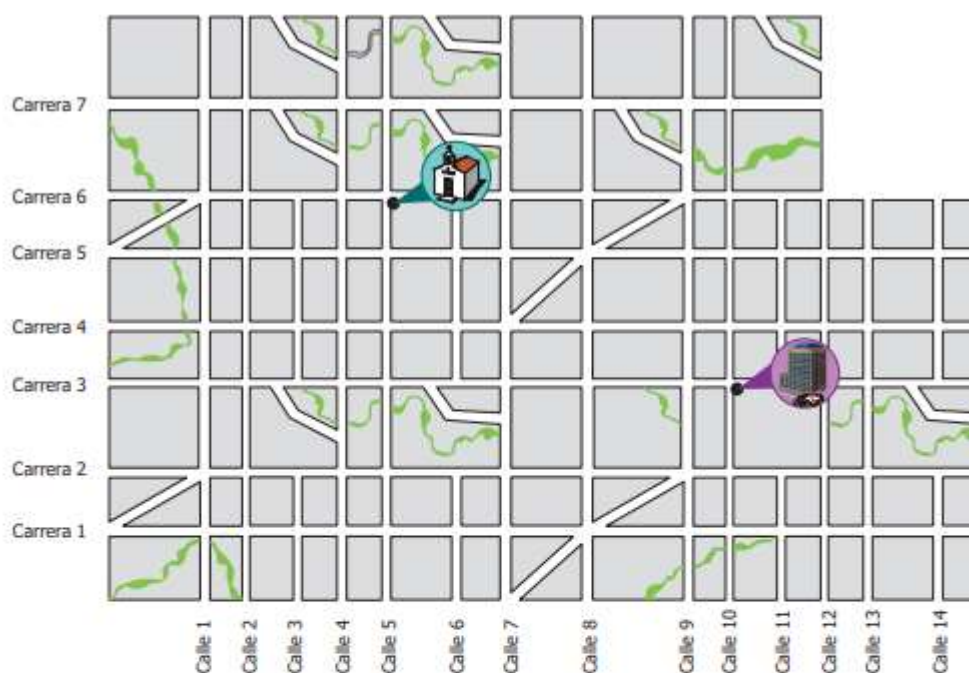
INSTITUCIÓN EDUCATIVA SURORIENTAL



Matemáticas



13 DE MARZO



¿Cuál es la ubicación del hospital  respecto a la iglesia  ?

- A. 3 carreras hacia el sur y 5 calles hacia el oriente.
- B. 5 carreras hacia el norte y 6 calles hacia el oriente.
- C. 6 carreras hacia el sur y 10 calles hacia el oriente.
- D. 7 carreras hacia el norte y 14 calles hacia el oriente.

DIEGO ALONSO CASTAÑO ALZATE
Por favor visiten la página de club sumate
<https://iesuroriental.wixsite.com/clubsumate>

INSTITUCIÓN EDUCATIVA SURORIENTAL

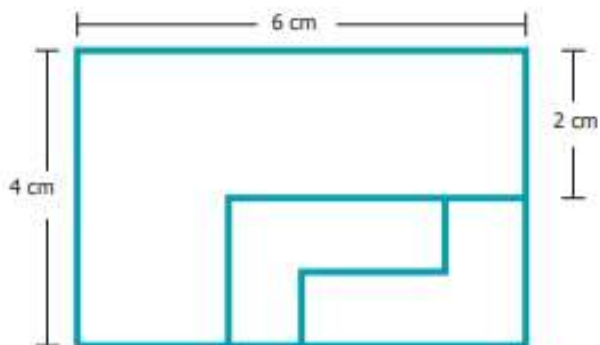


Matemáticas



15 DE MARZO

Se construye un rectángulo de 6 cm de largo y 4 cm de ancho, a partir de tres fichas semejantes, tal como se muestra en la figura.



Teniendo en cuenta que las fichas pequeñas son del mismo tamaño, entonces el largo de las fichas pequeñas es

- A. 1 cm.
- B. 2 cm.
- C. 3 cm.
- D. 4 cm.